

1. Rajzolj egy 10 × 10 cm-es szabályos négyzetet a papírra.

2. Jelöld be minden oldalát az ábrán látható módon, 5 mm-es távolságban.


3. Az új pontokat kösd össze.

4. Az új négyzeten is jelöld be a távolságokat 5 -5 mm-es távolságban és ezeket is kösd össze.


5. Haladj tovább addig, amíg csak tudsz.

6. A végeredmény valaki szerint olyan, mint egy alagút, másokat inkább egy piramisra, vagy lépcsőházra emlékeztet. Te mit gondolsz?


1. 2.




3.



4.



5.



6.

